

سؤالات امتحان نهایی درس : شیمی ۳	رشته : ریاضی و فیزیک - علوم تجربی	تعداد صفحه: ۶	ساعت شروع: ۸ صبح
پایه دوازدهم دوره دوم متوسطه	نام و نام خانوادگی :	تاریخ امتحان: ۱۳۹۹/۳/۱۹	مدت امتحان: ۱۲۰ دقیقه
دانش آموزان روزانه سراسر کشور در نوبت خرداد ماه سال ۱۳۹۹		مرکز سنجش و پایش کیفیت آموزشی http://aee.medu.ir	

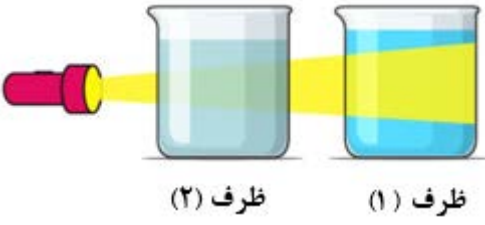
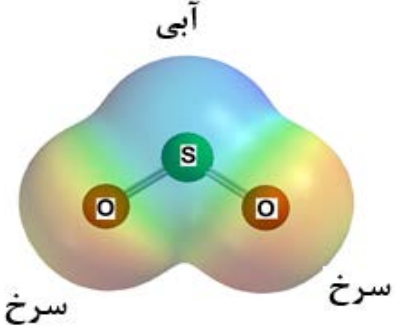
ردیف	سؤالات (پاسخ نامه دارد)	نمره
------	-------------------------	------

توجه : استفاده از ماشین حساب ساده (دارای چهار عمل اصلی ، جذر و درصد) بلامانع است تا دو رقم اعشار دقت شود.

الف (بخش الزامی		
دانش آموز عزیز به سوالات ۱ تا ۱۲ جهت کسب ۱۶ نمره پاسخ دهید.		
۱/۲۵	<p>با استفاده از واژه های درون کادر ، عبارت های زیر را کامل کنید. (چند واژه اضافی است).</p> <div style="border: 1px solid black; padding: 5px; text-align: center;"> <p>آب - نیتینول - آهک - فولاد - سلول سوختی - دما - کلر - سلول الکترولیتی</p> </div> <p>(آ) از آلیاژ که به آلیاژ هوشمند معروف است امروزه در ساخت فرآورده های صنعتی و پزشکی همانند قاب عینک استفاده می شود.</p> <p>(ب) نوعی سلول گالوانی که شیمی دان ها برای گذر از تنگنای تأمین انرژی و کاهش آلودگی محیط زیست پیشنهاد داده اند، است.</p> <p>(پ) قدرت پاک کنندگی صابون به عوامل گوناگونی مانند نوع پارچه ، مقدار صابون ، نوع و بستگی دارد.</p> <p>(ت) برای کاهش میزان اسیدی بودن خاک به آن می افزایند.</p>	۱
۲	<p>درستی یا نادرستی هریک از عبارت های زیر را تعیین کرده و در صورت نادرست بودن شکل درست آن را در پاسخ نامه بنویسید.</p> <p>(آ) در شرایط یکسان رسانایی الکتریکی محلول ۰/۱ مولار هیدروفلئوریک اسید (HF) کمتر از محلول ۰/۱ مولار هیدروکلریک اسید (HCl) است.</p> <p>(ب) با افزایش غلظت های تعادلی مواد شرکت کننده در یک واکنش ثابت تعادل افزایش می یابد.</p> <p>(پ) از جمله ویژگی های لیتیم که سبب شده از آن در ساخت باتری دگمه ای استفاده شود، کم بودن چگالی و زیاد بودن E° آن است.</p> <p>(ت) خوردگی آهن در محیط اسیدی به میزان بیشتری رخ می دهد.</p> <p>(ث) با توجه به آن که میانگین آنتالپی پیوند C-C بیشتر از میانگین آنتالپی پیوند Si-Si است، پس نقطه ذوب سیلیسیم بالاتر از الماس است.</p>	۲
۱/۲۵	<p>تصاویر زیر الگوهای ساختاری صابون، اسید چرب و استر سنگین را نمایش می دهند. با توجه به آن ها به پرسش ها پاسخ دهید:</p> <div style="text-align: center;"> </div> <p>(آ) چربی ها مخلوطی از کدام دو ترکیب هستند؟</p> <p>(ب) کدام ساختار مربوط به اسید چرب است؟</p> <p>(پ) نیروی بین مولکولی غالب در ترکیب (۲) از چه نوعی است؟ چرا؟</p> <p>(ت) کدام ترکیب در آب حل می شود؟</p>	۳
«ادامه سوال ها در صفحه دوم»		

سؤالات امتحان نهایی درس : شیمی ۳	رشته : ریاضی و فیزیک - علوم تجربی	تعداد صفحه: ۶	ساعت شروع: ۸ صبح
پایه دوازدهم دوره دوم متوسطه	نام و نام خانوادگی :	تاریخ امتحان: ۱۳۹۹/۳/۱۹	مدت امتحان: ۱۲۰ دقیقه
دانش آموزان روزانه سراسر کشور در نوبت خرداد ماه سال ۱۳۹۹		مرکز سنجش و پایش کیفیت آموزشی http://aee.medu.ir	

ردیف	سؤالات (پاسخ نامه دارد)	نمره
------	-------------------------	------

۴	<p>با توجه به شکل زیر که مقایسه رفتار نور در یک محلول و کلویید را نشان می دهد به سوالات پاسخ دهید.</p> <p>(آ) کدام ظرف حاوی کلویید است؟</p> <p>(ب) علت پخش نور توسط ذرات ماده موجود در ظرف (۱) را توضیح دهید.</p> <p>(پ) ماده موجود در کدام ظرف یک مخلوط همگن است؟</p> <p>(ت) محتوای کدام ظرف می تواند ژله باشد؟</p>	۱										
												
۵	<p>اگر غلظت تعادلی یون هیدرونیوم در محلول اسید HA در دمای معین برابر ۰/۰۰۱ مول بر لیتر و ثابت یونش این اسید برابر 10^{-5} باشد.</p> <p>(آ) pH این محلول را بدست آورید.</p> <p>(ب) غلظت تعادلی اسید HA را در این دما محاسبه کنید.</p>	۱/۲۵										
$HA(aq) \rightleftharpoons H^+(aq) + A^-(aq)$												
۶	<p>با توجه به جدول زیر، به سوالات پاسخ دهید.</p> <p>(آ) کدام گونه قویترین اکسنده است؟</p> <p>(ب) نیروی الکتروموتوری (emf) سلول گالوانی روی - مس (Zn- Cu) را محاسبه نمایید.</p> <p>(پ) بدون محاسبه تعیین کنید سلول گالوانی ساخته شده از کدام دو فلز موجود در این جدول، بیشترین مقدار ولتاژ را تولید می کند؟ چرا؟</p>	۱/۵										
<table border="1" style="width: 100%; border-collapse: collapse;"> <thead> <tr> <th style="width: 50%; text-align: center;">$E^\circ (V)$</th> <th style="width: 50%; text-align: center;">نیم واکنش کاهش</th> </tr> </thead> <tbody> <tr> <td style="text-align: center;">+۰/۸۰</td> <td style="text-align: center;">$Ag^+(aq) + e^- \rightarrow Ag (s)$</td> </tr> <tr> <td style="text-align: center;">+۰/۳۴</td> <td style="text-align: center;">$Cu^{2+}(aq) + 2e^- \rightarrow Cu (s)$</td> </tr> <tr> <td style="text-align: center;">-۰/۷۶</td> <td style="text-align: center;">$Zn^{2+}(aq) + 2e^- \rightarrow Zn (s)$</td> </tr> <tr> <td style="text-align: center;">-۲/۳۷</td> <td style="text-align: center;">$Mg^{2+}(aq) + 2e^- \rightarrow Mg (s)$</td> </tr> </tbody> </table>			$E^\circ (V)$	نیم واکنش کاهش	+۰/۸۰	$Ag^+(aq) + e^- \rightarrow Ag (s)$	+۰/۳۴	$Cu^{2+}(aq) + 2e^- \rightarrow Cu (s)$	-۰/۷۶	$Zn^{2+}(aq) + 2e^- \rightarrow Zn (s)$	-۲/۳۷	$Mg^{2+}(aq) + 2e^- \rightarrow Mg (s)$
$E^\circ (V)$	نیم واکنش کاهش											
+۰/۸۰	$Ag^+(aq) + e^- \rightarrow Ag (s)$											
+۰/۳۴	$Cu^{2+}(aq) + 2e^- \rightarrow Cu (s)$											
-۰/۷۶	$Zn^{2+}(aq) + 2e^- \rightarrow Zn (s)$											
-۲/۳۷	$Mg^{2+}(aq) + 2e^- \rightarrow Mg (s)$											
۷	<p>با توجه به نقشه پتانسیل الکتروستاتیکی گوگرد دی اکسید (SO_2) به پرسش ها پاسخ دهید.</p> <p>(آ) این مولکول قطبی است یا ناقطبی؟ چرا؟</p> <p>(ب) با بیان دلیل، اتم S را در نقشه با $(\delta+)$ یا $(\delta-)$ نشان دار کنید.</p>	۱/۲۵										
												
«ادامه سوال ها در صفحه سوم»												

سؤالات امتحان نهایی درس : شیمی ۳	رشته : ریاضی و فیزیک - علوم تجربی	تعداد صفحه: ۶	ساعت شروع: ۸ صبح
پایه دوازدهم دوره دوم متوسطه	نام و نام خانوادگی :	تاریخ امتحان: ۱۳۹۹/۳/۱۹	مدت امتحان: ۱۲۰ دقیقه
دانش آموزان روزانه سراسر کشور در نوبت خرداد ماه سال ۱۳۹۹		مرکز سنجش و پایش کیفیت آموزشی http://aee.medu.ir	

ردیف	سؤالات (پاسخ نامه دارد)	نمره
------	-------------------------	------

۸	<p>با توجه به شکل زیر که مربوط به برقکافت سدیم کلرید مذاب است به پرسش ها پاسخ دهید.</p> <p>آ نوع این سلول گالوانی است یا الکترولیتی؟ چرا؟</p> <p>ب) علت افزودن مقداری کلسیم کلرید به سدیم کلرید در این فرایند چیست؟</p> <p>پ) نیم واکنش کاتدی را بنویسید.</p>	۱/۲۵												
۹	<p>با توجه به ثابت یونش اسیدهای موجود در جدول زیر به پرسش ها پاسخ دهید.</p> <table border="1" style="width: 100%; border-collapse: collapse;"> <thead> <tr> <th>ردیف</th> <th>نام اسید</th> <th>فرمول شیمیایی</th> <th>K_a</th> </tr> </thead> <tbody> <tr> <td>۱</td> <td>فورمیک اسید</td> <td>HCOOH(aq)</td> <td>$1/8 \times 10^{-4}$</td> </tr> <tr> <td>۲</td> <td>هیدروسیانیک اسید</td> <td>HCN(aq)</td> <td>$4/9 \times 10^{-10}$</td> </tr> </tbody> </table> <p>آ) کدام اسید قوی تر است؟</p> <p>ب) توضیح دهید در دمای ۲۵ درجه، pH محلول یک مولار کدام اسید (HCOOH یا HCN) بیشتر است؟ (محاسبه لازم نیست.)</p>	ردیف	نام اسید	فرمول شیمیایی	K_a	۱	فورمیک اسید	HCOOH(aq)	$1/8 \times 10^{-4}$	۲	هیدروسیانیک اسید	HCN(aq)	$4/9 \times 10^{-10}$	۱
ردیف	نام اسید	فرمول شیمیایی	K_a											
۱	فورمیک اسید	HCOOH(aq)	$1/8 \times 10^{-4}$											
۲	هیدروسیانیک اسید	HCN(aq)	$4/9 \times 10^{-10}$											
۱۰	<p>دلیل هر یک از عبارتهای زیر را بنویسید.</p> <p>آ) آلومینیوم فلزی فعال است که به سرعت در هوا اکسید شده ، اما خورده نمی شود و استحکام خود را حفظ می کند .</p> <p>ب) آنتالپی فروپاشی شبکه پتاسیم کلرید (s) KCl بیشتر از آنتالپی فروپاشی شبکه پتاسیم برمید (s) KBr است.</p> <p>پ) برای افزایش قدرت پاک کنندگی مواد شوینده به آن ها نمک های فسفات می افزایند.</p> <p>ت) می توان با محلول غلیظ هیدروکلریک اسید برخی لوله ها و مجاری جرم گرفته را باز کرد.</p>	۲												
۱۱	<p>در واکنش زیر با محاسبه تغییر عدد اکسایش ، گونه اکسنده و کاهنده را تعیین کنید.</p> $2\text{Al (s)} + 3\text{CuSO}_4\text{(aq)} \rightarrow \text{Al}_2\text{(SO}_4\text{)}_3\text{(aq)} + 3\text{Cu (s)}$ <p>«ادامه سوال ها در صفحه چهارم»</p>	۱/۲۵												

سؤالات امتحان نهایی درس : شیمی ۳	رشته : ریاضی و فیزیک - علوم تجربی	تعداد صفحه: ۶	ساعت شروع: ۸ صبح
پایه دوازدهم دوره دوم متوسطه	نام و نام خانوادگی :	تاریخ امتحان: ۱۳۹۹/۳/۱۹	مدت امتحان: ۱۲۰ دقیقه
دانش آموزان روزانه سراسر کشور در نوبت خرداد ماه سال ۱۳۹۹		مرکز سنجش و پایش کیفیت آموزشی http://aee.medu.ir	

ردیف	سؤالات (پاسخ نامه دارد)	نمره
------	-------------------------	------

۱	<p>با توجه به جدول زیر به پرسش ها پاسخ دهید.</p> <p>(آ) کدام ماده در گستره دمایی کمتری به حالت مایع است؟ چرا؟</p> <p>(ب) واژه ماده مولکولی و فرمول مولکولی را برای توصیف کدام ماده نمی توان به کار برد؟ چرا؟</p>	۱۲									
	<table border="1" style="width: 100%; text-align: center;"> <thead> <tr> <th>ماده</th> <th>نقطه ذوب (°C)</th> <th>نقطه جوش (°C)</th> </tr> </thead> <tbody> <tr> <td>N₂</td> <td>-۲۰۷</td> <td>-۱۹۶</td> </tr> <tr> <td>SiO₂</td> <td>۱۷۱۰</td> <td>۲۲۳۰</td> </tr> </tbody> </table>	ماده	نقطه ذوب (°C)	نقطه جوش (°C)	N ₂	-۲۰۷	-۱۹۶	SiO ₂	۱۷۱۰	۲۲۳۰	
ماده	نقطه ذوب (°C)	نقطه جوش (°C)									
N ₂	-۲۰۷	-۱۹۶									
SiO ₂	۱۷۱۰	۲۲۳۰									

(ب) بخش انتخابی		
دانش آموزان عزیز جهت کسب ۴ نمره از سوالات ۱۳ تا ۲۰ فقط ۴ سوال را به دلخواه انتخاب و پاسخ دهید.		

۱	<p>با توجه به نمودارهای زیر به پرسش ها پاسخ دهید.</p> <p>(آ) گرماده یا گرماگیر بودن هر یک از واکنش ها را مشخص کنید.</p> <p>(ب) کدام واکنش در شرایط یکسان، سریع تر انجام می شود؟ چرا؟</p>	۱۳
	<p style="text-align: center;">(۱) واکنش (۲) واکنش</p>	

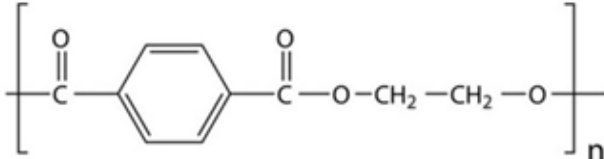
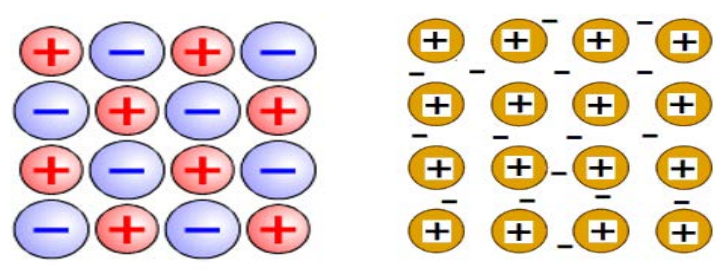
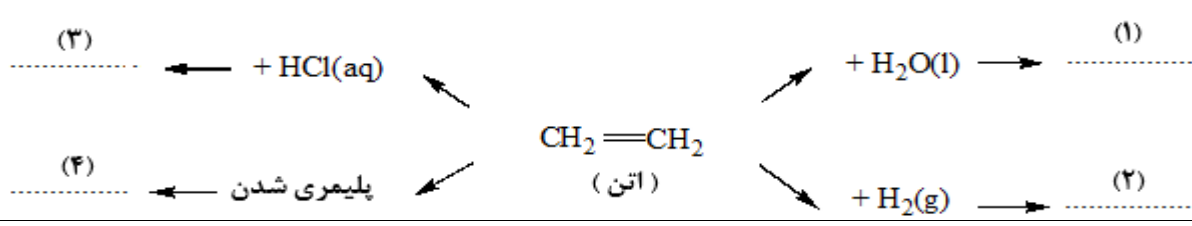
۱	<p>شکل زیر 500 میلی لیتر از محلول آبی یک حل شونده را نشان می دهد.</p> <p>(هر ذره را یک مول از آن گونه در نظر بگیرید.)</p> <p>(آ) این نوع حل شونده ها اسید آرنیوس هستند یا باز آرنیوس؟ چرا؟</p> <p>(ب) درصدیونش این محلول را محاسبه کنید.</p>	۱۴

۱	<p>با توجه به شکل که در آن، واکنش تعادلی زیر در سیلندری با پیستون روان در دمای ثابت قرار دارد، به سوالات پاسخ دهید .</p> $A_2(g) + 3 B_2(g) \rightleftharpoons 2AB_3(g)$ <p>(آ) اگر در سامانه پیستون به سمت بیرون کشیده شود واکنش تعادلی در کدام جهت جابه جا می شود؟ دلیل بنویسید.</p> <p>(ب) با این تغییر شمار مولکول های AB₃ چه تغییری می کند؟</p>	۱۵

«ادامه سوالها در صفحه پنجم»

سؤالات امتحان نهایی درس : شیمی ۳	رشته : ریاضی و فیزیک - علوم تجربی	تعداد صفحه: ۶	ساعت شروع: ۸ صبح
پایه دوازدهم دوره دوم متوسطه	نام و نام خانوادگی :	تاریخ امتحان: ۱۳۹۹/۳/۱۹	مدت امتحان: ۱۲۰ دقیقه
دانش آموزان روزانه سراسر کشور در نوبت خرداد ماه سال ۱۳۹۹		مرکز سنجش و پایش کیفیت آموزشی http://aee.medu.ir	

ردیف	سؤالات (پاسخ نامه دارد)	نمره
------	-------------------------	------

۱۶	<p>ورقه های آهنی را در صنعت با پوششی از فلز روی تهیه می کنند.</p> <p>$E^{\circ}(\text{Zn}^{2+}/\text{Zn}) = -0.76 \text{ V}$ $E^{\circ}(\text{Fe}^{2+}/\text{Fe}) = -0.44 \text{ V}$</p> <p>(آ) این نوع آهن به چه نامی معروف است ؟</p> <p>(ب) به چه علت از این ورقه ها در ساخت ظروف بسته بندی مواد غذایی استفاده نمی شود؟</p> <p>(پ) اگر خراشی در سطح این نوع ورقه آهنی ایجاد شود ، نیم واکنش اکسایش را بنویسید.</p>	۱
۱۷	<p>فرمول ساختاری پلیمر سازنده بطری آب به شکل زیر است. با توجه به آن به پرسش ها پاسخ دهید.</p> <p>(آ) این پلیمر از کدام دسته پلیمرهاست؟ چرا؟</p> <p>(ب) ساختار مونومرهای سازنده این پلیمر را رسم کنید.</p> 	۱
۱۸	<p>با توجه به شکل های زیر به پرسش ها پاسخ دهید.</p>  <p>شکل (۱) شکل (۲)</p> <p>(آ) کدام شکل یک الگوی ساده از شبکه بلوری فلزها را نشان می دهد؟</p> <p>(ب) ساختار ذره ای MgO (s) با کدام شکل همخوانی دارد؟</p> <p>(پ) بر اثر ضربه چکش، شبکه بلوری کدام شکل ، درهم فرو ریخته و می شکند؟ چرا؟</p>	۱
۱۹	<p>در نمودار زیر جاهای خالی (۱) تا (۴) را با نام یا فرمول ماده شیمیایی مناسب پر کنید.</p> 	۱
۲۰	<p>از واکنش ۲۵۰ میلی لیتر از محلول هیدروکلریک اسید ۰/۰۱ مول بر لیتر با مقدار کافی از سدیم هیدروژن کربنات چند میلی لیتر گاز کربن دی اکسید در شرایط STP تولید می شود؟</p> <p>$\text{NaHCO}_3(\text{aq}) + \text{HCl}(\text{aq}) \rightarrow \text{CO}_2(\text{g}) + \text{NaCl}(\text{aq}) + \text{H}_2\text{O}(\text{l})$</p>	۱
۲۴	موفق و سربلند باشید	

سؤالات امتحان نهایی درس : شیمی ۳	رشته : ریاضی و فیزیک – علوم تجربی	تعداد صفحه: ۶	ساعت شروع: ۸ صبح
پایه دوازدهم دوره دوم متوسطه	نام و نام خانوادگی :	تاریخ امتحان: ۱۳۹۹/۳/۱۹	مدت امتحان: ۱۲۰ دقیقه
دانش آموزان روزانه سراسر کشور در نوبت خرداد ماه سال ۱۳۹۹		مرکز سنجش و پایش کیفیت آموزشی http://aee.medu.ir	

ردیف	سؤالات (پاسخ نامه دارد)	نمره
------	-------------------------	------

۱ H ۱/۰۰۸	<div style="border: 1px solid black; padding: 5px; width: fit-content; margin: 0 auto;"> راهنمای جدول تناوبی عناصرها ۶ عدد اتمی C ۱۲/۰۱ جرم اتمی میانگین </div>																۲ He ۴/۰۰۳
۳ Li ۶/۹۴۱	۴ Be ۹/۰۱۲	۵ B ۱۰/۸۱	۶ C ۱۲/۰۱	۷ N ۱۴/۰۱	۸ O ۱۶/۰۰	۹ F ۱۹/۰۰	۱۰ Ne ۲۰/۱۸										
۱۱ Na ۲۲/۹۹	۱۲ Mg ۲۴/۳۱	۱۳ Al ۲۶/۹۸	۱۴ Si ۲۸/۰۹	۱۵ P ۳۰/۹۷	۱۶ S ۳۲/۰۷	۱۷ Cl ۳۵/۴۵	۱۸ Ar ۳۹/۹۵										
۱۹ K ۳۹/۱۰	۲۰ Ca ۴۰/۰۸	۲۱ Sc ۴۴/۹۶	۲۲ Ti ۴۷/۸۷	۲۳ V ۵۰/۹۴	۲۴ Cr ۵۲/۰۰	۲۵ Mn ۵۴/۹۴	۲۶ Fe ۵۵/۸۵	۲۷ Co ۵۸/۹۳	۲۸ Ni ۵۸/۶۹	۲۹ Cu ۶۳/۵۵	۳۰ Zn ۶۵/۳۹	۳۱ Ga ۶۹/۷۲	۳۲ Ge ۷۲/۶۴	۳۳ As ۷۴/۹۲	۳۴ Se ۷۸/۹۶	۳۵ Br ۷۹/۹۰	۳۶ Kr ۸۳/۸۰

راهنمای تصحیح امتحان نهایی درس: شیمی ۳	رشته: ریاضی و فیزیک - علوم تجربی	تعداد صفحه: ۴	مدت امتحان: ۱۲۰ دقیقه
پایه دوازدهم دوره دوم متوسطه	تاریخ امتحان: ۱۳۹۹/۳/۱۹	ساعت شروع: ۸ صبح	
دانش آموزان روزانه سراسر کشور در نوبت خرداد ماه سال ۱۳۹۹		مرکز سنجش و پایش کیفیت آموزشی http://aee.medu.ir	

ردیف	راهنمای تصحیح	نمره
------	---------------	------

الف) بخش الزامی		
۱	آ) نیتینول «۰/۲۵» ص ۸۶ ب) سلول سوختی «۰/۲۵» ص ۵۰ پ) آب «۰/۲۵» ص ۸ ت) آهک «۰/۲۵» ص ۱۴	۱/۲۵
۲	آ) درست «۰/۲۵» ص ۱۸ ب) نادرست «۰/۲۵» - با افزایش غلظت های تعادلی مواد شرکت کننده در یک واکنش ثابت تعادل تغییر نمی کند. «۰/۲۵» ص ۲۲ پ) نادرست «۰/۲۵» - از جمله ویژگی های لیتیم که سبب شده از آن در ساخت باتری دگمه ای استفاده شود، کم بودن چگالی و کم بودن E° آن است. «۰/۲۵» ص ۴۹ ت) درست «۰/۲۵» ص ۵۷ ث) نادرست. «۰/۲۵» - نقطه ذوب الماس بالاتر از سیلیسیم است. «۰/۲۵» ص ۷۰	۰/۲۵ ۰/۵ ۰/۵ ۰/۲۵ ۰/۵
۳	آ) ترکیب (۱) و ترکیب (۲) «۰/۲۵» ب) ترکیب (۱) «۰/۲۵» پ) واندروالسی «۰/۲۵» - زیرا بخش بزرگی از مولکول رابخش ناقطبی (زنجیر بلند کربنی) تشکیل داده است. «۰/۲۵» ت) ترکیب ۳ «۰/۲۵» ص ۵ تا ۶	۰/۵ ۰/۵ ۰/۲۵
۴	آ) ظرف (۱) «۰/۲۵» ب) ذرات کلویید درشت تر از محلول هستند به همین دلیل نور را پخش می کنند. «۰/۲۵» پ) ظرف (۲) «۰/۲۵» ت) ظرف (۱) «۰/۲۵» ص ۷	۰/۲۵ ۰/۲۵ ۰/۵
۵	آ) ص ۲۲ تا ص ۲۴ ب) $[H^+] = [A^-] = 0.001 \text{ mol.L}^{-1}$ $K = \frac{[H^+][A^-]}{[HA]} \rightarrow 1/8 \times 10^{-9} = \frac{(0.001)^2}{[HA]} \rightarrow [HA] = 0.0001 \text{ mol.L}^{-1}$	۰/۵ ۰/۷۵ ۰/۲۵
۶	آ) Ag^+ «۰/۲۵» ب) انتخاب درست آند و کاتد «۰/۲۵» $emf = E_{\text{کاتد}}^\circ - E_{\text{آند}}^\circ$ $emf = E_{Cu}^\circ - E_{Zn}^\circ = (+0.34) - (-0.76) = +1.1$ پ) سلول منیزیم - نقره «۰/۲۵» چون بیشترین اختلاف پتانسیل را دارند. «۰/۲۵» ص ۴۴ تا ص ۴۸	۰/۲۵ ۰/۷۵ ۰/۵
«ادامه راهنما در صفحه دوم»		

مدت امتحان: ۱۲۰ دقیقه	تعداد صفحه: ۴	رشته: ریاضی و فیزیک - علوم تجربی	راهنمای تصحیح امتحان نهایی درس: شیمی ۳
ساعت شروع: ۸ صبح	تاریخ امتحان: ۱۳۹۹/۳/۱۹		پایه دوازدهم دوره دوم متوسطه
مرکز سنجش و پایش کیفیت آموزشی http://aee.medu.ir		دانش آموزان روزانه سراسر کشور در نوبت خرداد ماه سال ۱۳۹۹	

نمره	راهنمای تصحیح	ردیف
------	---------------	------

۰/۷۵	۷	<p>آ) قطبی «۰/۲۵» - زیرا بار الکتریکی در پیرامون اتم مرکزی توزیع متقارن ندارد. «۰/۵»</p> <p>ب) در نقشه پتانسیل الکترواستاتیکی رنگ آبی تراکم کمتر بار الکتریکی را نشان می دهد «۰/۲۵» پس اتم S، با (+ δ) نشان دار می شود. «۰/۲۵» ص ۷۴</p>
۰/۵	۸	<p>آ) الکترولیتی «۰/۲۵» - زیرا برای انجام برقکافت نیاز به استفاده از باتری است. (یا چون این واکنش به صورت طبیعی انجام نمی شود). «۰/۲۵»</p> <p>ب) پایین آوردن نقطه ذوب «۰/۲۵»</p> <p>پ) کاتد $\text{Na}^+(\text{aq}) + \text{e}^- \rightarrow \text{Na}(\text{l})$ نوشتن درست نیم واکنش «۰/۲۵» تشخیص تولید سدیم در کاتد «۰/۲۵» ص ۵۵</p>
۰/۲۵	۹	<p>آ) فورمیک اسید «۰/۲۵»</p> <p>ب) هیدروسیانیک اسید «۰/۲۵» زیرا ثابت یونش آن کوچک تر است پس اسید ضعیف تری است و میزان یونش آن در آب کمتر است «۰/۲۵». از این رو غلظت یون هیدرونیوم در محلول ۱ مولار آن کمتر می باشد. «۰/۲۵» ص ۲۳</p>
۰/۵	۱۰	<p>آ) این فلز به سرعت اکسید می شود ولی با اکسید شدن و تشکیل لایه چسبنده و متراکم Al_2O_3 از ادامه اکسایش جلوگیری می شود به طوری که لایه های زیرین برای مدت طولانی دست نخورده باقی می ماند و استحکام خود را حفظ می کند. «۰/۵»</p> <p>ص ۶۱</p> <p>ب) زیرا شعاع یون برمید بیشتر از یون کلرید است. «۰/۲۵» بنابراین چگالی بار یون کلرید بیشتر از یون برمید است «۰/۲۵» ص ۸۰</p> <p>پ) زیرا این نمک ها با یون های کلسیم و منیزیم موجود در آب های سخت واکنش می دهند، «۰/۲۵» و از تشکیل رسوب و ایجاد لکه جلوگیری می کنند. «۰/۲۵» ص ۱۲</p> <p>ت) زیرا موادی که سبب گرفتگی این لوله ها و مجاری می شوند، خاصیت بازی دارند. «۰/۲۵» پس هیدروکلریک اسید در واکنش با این مواد فرآورده های محلول در آب یا گاز تولید می کند و لوله ها و مجاری باز می شوند. «۰/۲۵» ص ۳۱</p>
		«ادامه راهنما در صفحه سوم»

مدت امتحان: ۱۲۰ دقیقه	تعداد صفحه: ۴	رشته: ریاضی و فیزیک - علوم تجربی	راهنمای تصحیح امتحان نهایی درس: شیمی ۳
ساعت شروع: ۸ صبح	تاریخ امتحان: ۱۳۹۹/۳/۱۹		پایه دوازدهم دوره دوم متوسطه
مرکز سنجش و پایش کیفیت آموزشی http://aee.medu.ir		دانش آموزان روزانه سراسر کشور در نوبت خرداد ماه سال ۱۳۹۹	

نمره	راهنمای تصحیح	ردیف
------	---------------	------

۰/۵	آ - شکل (۱) «۰/۲۵» ص ۸۲ ب - شکل (۲) «۰/۲۵» ص ۶۷	۱۸
۰/۵	پ - شکل (۲) «۰/۲۵» - زیرا با جابه جایی لایه ها، یون ها با بار هم نام کنار هم قرار میگیرند و دافعه ایجاد شده سبب در هم ریختن شبکه بلور می شود. «۰/۲۵» ص ۸۷	
۱	ص ۱۱۲ (۱) اتانول C_2H_5OH «۰/۲۵» (۲) اتان C_2H_6 «۰/۲۵» (۳) کلرواتان C_2H_5Cl «۰/۲۵» (۴) پلی اتن $(-CH_2-CH_2-)_n$ «۰/۲۵»	۱۹
۱	$۲۵۰\text{mLHCl(aq)} \times \frac{۰/۰۱\text{ mol HCl}}{۱\text{L HCl(aq)}} \times \frac{۱\text{ mol CO}_2}{۱\text{ mol HCl}} \times \frac{۲۲/۴\text{LCO}_2}{۱\text{ mol CO}_2} = ۵۶\text{ mLCO}_2$ «۰/۲۵» «۰/۲۵» «۰/۲۵» «۰/۲۵» ص ۳۶	۲۰
۲۴	جمع نمره خسته نباشید.	

همکار محترم ضمن عرض خدا قوت ؛ لطفاً برای پاسخ های درست بر پایه کتاب (به جز به کاربردن تناسب در حل مسایل عددی) نمره منظور فرمایید.